

UNIDAD DIDACTICA 10- MATEMATICAS

Estándar de aprendizaje evaluable	Categoría	Instrumento	Competencia
2.1.1 Lee y escribe números naturales hasta el 79, en textos numéricos.	B	PEscrita Practica	CL
2.1.4 Construye números del 70 al 79 utilizando correctamente los conceptos de unidad y decena.	B	Práctica	CMCT
2.1.5 Escribe, al dictado, los números hasta el 79, relacionando los nombres de los números con sus grafías.	B	PEscrita Practica	CL
2.6.1 Utiliza y automatiza algoritmos estándar de la suma y de la resta.	B	PEscrita	CMCT
2.4.1 Realiza cálculos mentales sencillos.	B	ODirecta	CMCT
3.4.1 Identifica las monedas de céntimos y reconoce su valor.	I	PEscrita	CMCT
3.4.2 Calcula el valor total de un grupo de monedas de céntimos de euro.	I	PEscrita	CMCT
1.9.1 Muestra actitudes adecuadas para la realización del trabajo: esfuerzo, perseverancia y aceptación de la crítica razonada.	B	ODirecta	AA
2.4.2 Cuenta de manera ascendente y descendente, de 2 en 2, de 3 en 3...	A	PEscrita	CMCT
2.2.1 Identifica e interpreta situaciones de la vida diaria en las que se utilizan los números naturales: recuentos, enumeraciones.	B	Practica	CL

Nombre: _____

No Básicos superados	Suma niveles intermedios	Suma niveles avanzados	Valoración Orientativa

1. Escribe como se leen estos números

- 77: _____
- 69: _____
- 25: _____
- 70: _____
- 48: _____

Estándar	C	Nivel 1	Nivel 2	Nivel 3	Nivel 4	Nivel 5
MA02.01.01	B					

2. Coloca, calcula y escribe.

$$21 + 6 + 52$$

$$43 + 22 + 4$$

$$7 + 21 + 40 =$$

$$30 + 61 + 8 =$$

D	U



D	U



D	U

D	U

Estándar	C	Nivel 1	Nivel 2	Nivel 3	Nivel 4	Nivel 5
MA02.06.01	B					


3. Dibuja las monedas de céntimos que conozcas y escribe su valor.






Estándar	C	Nivel 1	Nivel 2	Nivel 3	Nivel 4	Nivel 5
MA03.04.01	I					


4. Escribe el valor de los centimos en cada caso.



35 céntimos



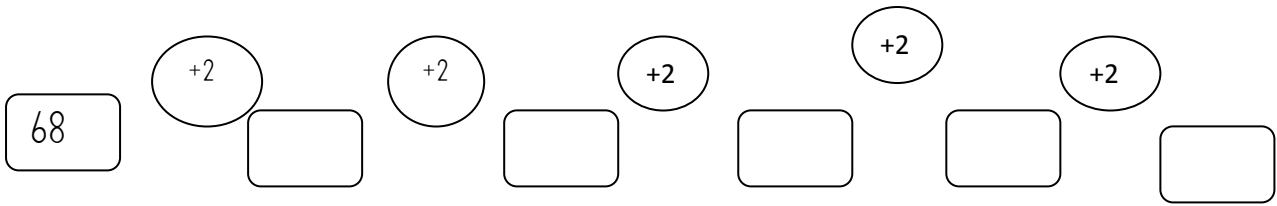
71 céntimos



62 céntimos

Estándar	C	Nivel 1	Nivel 2	Nivel 3	Nivel 4	Nivel 5
MA03.04.02	I					

5. Calcula



Estándar	C	Nivel 1	Nivel 2	Nivel 3	Nivel 4	Nivel 5
MA02.04.02	A					

6. Completa

- 7D y 2 U = _____
- 6D = _____
- 2D y 8U = _____
- 5D y 3U = _____

Estándar	C	Nivel 1	Nivel 2	Nivel 3	Nivel 4	Nivel 5
MA02.01.04	B					

7. Dictado de números.

Estándar	C	Nivel 1	Nivel 2	Nivel 3	Nivel 4	Nivel 5
MA02.01.05	B					